

## Multiply and Divide Decimals to tenth, A

Student


Teacher

Calculate the product and quotient for the two decimal numbers given. Write your answers in the spaces below each problem.

0.8  0.1

Asw: \_\_\_\_\_

Asw: \_\_\_\_\_

5  0.5


Asw: \_\_\_\_\_

Asw: \_\_\_\_\_

1.1  1.1

Asw: \_\_\_\_\_

Asw: \_\_\_\_\_

8  0.8

Asw: \_\_\_\_\_

Asw: \_\_\_\_\_

12  0.6


Asw: \_\_\_\_\_

Asw: \_\_\_\_\_

3  0.3

Asw: \_\_\_\_\_

Asw: \_\_\_\_\_

0.2  0.1

Asw: \_\_\_\_\_

Asw: \_\_\_\_\_

6  0.3


Asw: \_\_\_\_\_

Asw: \_\_\_\_\_

2  0.1

Asw: \_\_\_\_\_

Asw: \_\_\_\_\_

9  0.3


Asw: \_\_\_\_\_

Asw: \_\_\_\_\_

0.5  0.5


Asw: \_\_\_\_\_

Asw: \_\_\_\_\_

1  0.1

Asw: \_\_\_\_\_

Asw: \_\_\_\_\_

0.4  0.2

Asw: \_\_\_\_\_

Asw: \_\_\_\_\_

4  0.4


Asw: \_\_\_\_\_

Asw: \_\_\_\_\_

8  0.4

Asw: \_\_\_\_\_

Asw: \_\_\_\_\_

1.2  0.6

Asw: \_\_\_\_\_

Asw: \_\_\_\_\_